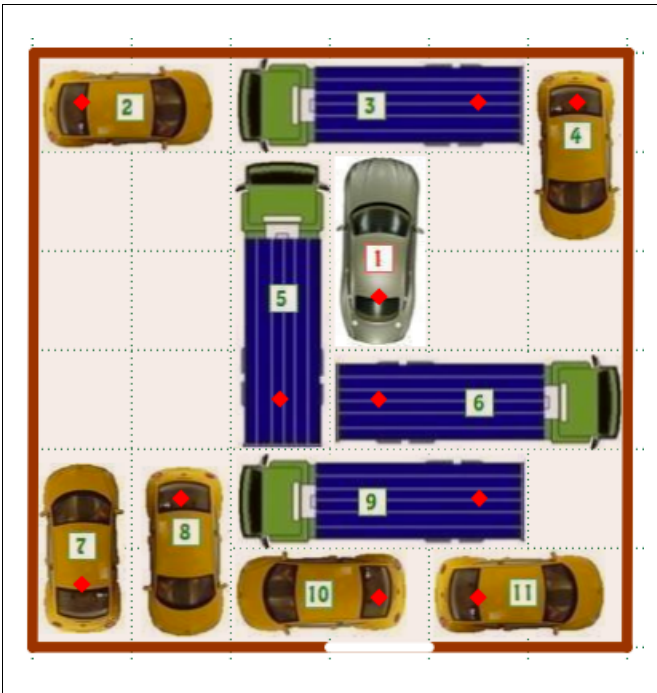


1	2	3	4	5	6	7	8	9
---	---	---	---	---	---	---	---	---

Parkplatz 1

Aufgabenstellung



Parkiere die Autos so um, dass die Chefin im Auto Nr. 1 das Parkdeck verlassen kann.

1. Protokolliere mit Hilfe der Nummern, welches Auto du um wie viele Einheiten nach unten, nach oben, nach rechts oder nach links verschiebst.
2. Vergleiche dein Protokoll mit anderen Protokollen in der Klasse.

Antworten

1. *Mögliche Lösung:*
 - Nr. 4 um 1 Feld nach unten
 - Nr. 3 um 1 Feld nach rechts
 - Nr. 5 um 1 Feld nach oben
 - Nr. 8 um 3 Felder nach oben
 - Nr. 7 um 3 Felder nach oben
 - Nr. 6 um 3 Felder nach links
 - Nr. 9 um 2 Felder nach links
 - Nr. 10 um 1 Feld nach links

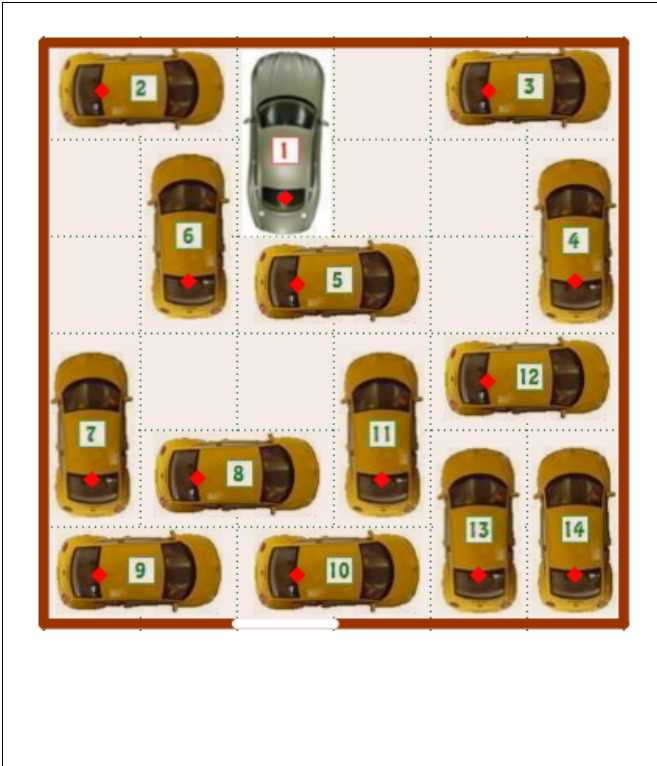
2. –

1	2	3	4	5	6	7	8	9
---	---	---	---	---	---	---	---	---



Parkplatz 2

Aufgabenstellung



Parkiere die Autos so um, dass die Chefin im Auto Nr. 1 das Parkdeck verlassen kann.

1. Protokolliere mit Hilfe der Nummern, welches Auto du um wie viele Einheiten nach unten, nach oben, nach rechts oder nach links verschiebst.
2. Vergleiche dein Protokoll mit anderen Protokollen in der Klasse.

Antworten

1. Mögliche Lösung:

- Nr. 3 um 1 Feld nach links
- Nr. 4 um 1 Feld nach oben
- Nr. 5 um 2 Felder nach rechts
- Nr. 11 um 2 Felder nach oben
- Nr. 7 um 2 Felder nach oben
- Nr. 8 um 1 Feld nach links
- Nr. 12 um 4 Felder nach links
- Nr. 13 um 1 Feld nach oben
- Nr. 10 um 1 Feld nach rechts

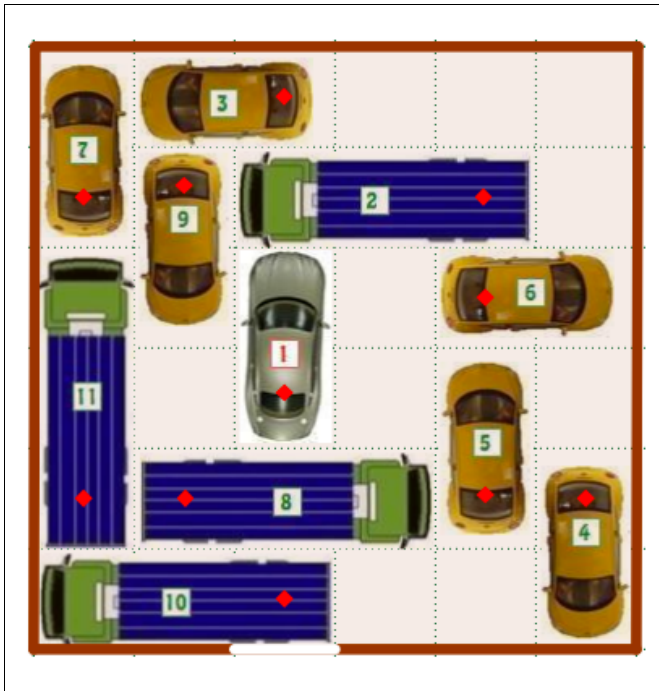
2. –

1	2	3	4	5	6	7	8	9
---	---	---	---	---	---	---	---	---



Parkplatz 3

Aufgabenstellung



Parkiere die Autos so um, dass die Chefin im Auto Nr. 1 das Parkdeck verlassen kann.

1. Protokolliere mit Hilfe der Nummern, welches Auto du um wie viele Einheiten nach unten, nach oben, nach rechts oder nach links verschiebst.
2. Vergleiche dein Protokoll mit anderen Protokollen in der Klasse.

Antworten

1. Mögliche Lösung:

- Nr. 2 um 1 Feld nach rechts
- Nr. 3 um 2 Felder nach rechts
- Nr. 1 um 2 Felder nach oben
- Nr. 9 um 1 Feld nach oben
- Nr. 6 um 3 Felder nach links
- Nr. 5 um 1 Feld nach oben
- Nr. 4 um 2 Felder nach oben
- Nr. 10 um 3 Felder nach rechts
- Nr. 8 um 2 Felder nach rechts
- Nr. 11 um 1 Feld nach unten
- Nr. 6 um 1 Feld nach links

2. –